

- 1) चिमणी घरटे तसे घोडा?
a) जाळी b) गुहा c) पिंजरा d) तबेला
- 2) 'ध्यान' या शब्दाचा अर्थ कोणता ?
a) छंद b) नाद c) समाधी d) काठ
- 3) दिलेल्या शब्द समूहाबद्दल योग्य शब्द पर्यायातून निवडा. पंचवीस वर्षानंतर साजरा होणारा महोत्सव
a) रौप्यमहोत्सव b) शताब्दी c) सुवर्ण महोत्सव d) यापैकी नाही.
- 4) खालील पैकी विरुद्धार्थी नसलेला शब्द ओळखा.
a) चपळ X मंद b) जन्म X मृत्यू
c) पक्का X कच्चा d) साम्य X सारखे
- 5) आपले राष्ट्रगीत कोणते ?
a) वंदे मातरम् b) जन - गण - मन
c) तिरंगा d) सत्यमेव जयते
- 6) खालीलपैकी अशुद्ध शब्द ओळखा.
a) सोमवार b) गुरवार c) बुधवार d) शनिवार
- 7) खालील वाक्यप्रचाराच्या योग्य अर्थाचा पर्याय निवडा.
हातपाय गाळणे
a) हात घेणे b) निराश होणे c) हात टेकणे d) फसविणे
- 8) Choose an appropriate adjective and fill in the blank.
A pig in the mud is
a) bad b) dirty c) great d) beautiful
- 9) Select the correct opposite of uninterested x
a) disintrested b) intrested c) like d) dislike
- 10) Choose the correct word meaning
Tomorrow
a) yesterday b) the next day
c) today d) the day after tomorrow
- 11) Fill in the blanks with appropriate joining words
She is intelligent lazy.
a) and b) but c) so d) or
- 12) Fill in the blank with correct article
It's beautiful day !
a) a b) an c) the d) none of these

- 13) Fill in the blank with the correct preposition.
Sayali ate rice dal.
a) on b) under c) with d) at
- 14) Which of the pair is not correct
a) tall man b) hot tea
c) beautiful dress d) black Parrot
- 15) Which is sound made by dog?
a) barks b) coos c) roar d) moo
- 16) चुकीचा पर्याय निवडा.
a) बटाटा चिप्स आणि शीतपेयांमध्ये मोठ्या प्रमाणात जीवनसत्त्वे असतात.
b) घाई-घाई केलेल्या जेवणाचे लवकर पचन होते.
c) कापलेल्या भाज्या व फळे धुतल्याने त्यातील जीवनसत्त्वे तशीच राहतात
d) वरीलपैकी सर्व.
Select the Incorrect Statement
a) Potato chips and soft drinks have high food value
b) Eating food in hurry will help in digesting food faster
c) Washing of vegetables and fruits after cutting them will keep the nutrients intact
d) all of these
- 17) खालीलपैकी योग्य जोडी निवडा.
a) दरी - छोटा डोंगर b) तळे- साचलेले पाणी
c) धरण - खारट पाणी d) समुद्र - स्वच्छ पाणी
Select the correct match from the following
a) Valley - Small low mountain b) Pond - Still water
c) Dam - Salty water d) Ocean - Fresh water
- 18) खालीलपैकी सर्वात महाग दळण - वळणाचे साधन कोणते?
a) रेल्वे b) विमान c) मोटार d) बस
Which of the following is the most expensive means of transport
a) Train b) Aeroplane c) Car d) Bus
- 19) खालीलपैकी कोणती कृती मोठ्यांच्या मदतीने करावी?
a) नखे कापणे b) कात्री वापरणे
c) पोहायला शिकणे d) वरीलपैकी सर्व
Which of the following we should do with the help of an adult?
a) Cutting nails b) using scissor
c) Learning Swimming d) All of these

- 20) खालीलपैकी अनावश्यक बाब कोणती ?
..... हात धुवावेत.
a) जेवणापूर्वी
b) जेवणानंतर
c) शौचास जाण्यापूर्वी
d) शौचावरून आल्यानंतर
Which of these is not necessary ?
Wash your hands
a) Before Eating
b) After Eating
c) Before going to the toilet
d) After going to the toilet
- 21) खालीलपैकी कोणता पायाचा भाग आहे.
a) मांडी
b) मनगट
c) कोपर
d) खांदा
Which of the following is a part of leg?
a) Thigh
b) Wrist
c) Elbow
d) Shoulder
- 22) हिंदीतील खालील म्हण पूर्ण करा.
उलटा चोर..... ?
a) घरवाले को पिते
b) कोतवाल को डाटे
c) वकील से रुठे
d) शिपाई को लुटे
Complete the hindi proverb
Ulta chor ?
a) Gharwaale ko pite
b) Kotwal ko daante
c) Vakilse ruthe
d) Sipahi ko lute
- 23) खालील पैकी मानवनिर्मित संपत्ती कोणती ?
a) स्वेटर
b) लाकूड
c) लोहखनिज
d) माती
Which of the following is man – made wealth?
a) Sweater
b) Wood
c) Iron-Ore
d) Soil
- 24) खूप पाऊस पडल्यावर कोणते संकट येते?
a) महापूर
b) वादळ
c) जमिन
d) दुष्काळ
Which crisis comes after the heavy Rainfall ?
a) Flood
b) Strom
c) Land
d) Drought
- 25) खालीलपैकी चुकीचा पर्याय शोधा.
a) झाडे लावा.
b) झाडे वाढवा
c) झाडांना इजा करा.
d) झाडे तोडू नका.
Find wrong option from the following
a) Plants trees
b) Grow Trees
c) harm trees
d) Don't' Cut trees
- 26) जमिन आपल्याला देते.
a) अन्न
b) आधार
c) वीज
d) हवा
Land gives us
a) Food
b) base
c) Power
d) Air

- 27) खालीलपैकी दोन पाय असणारा सजीव कोणता?
 a) गोम b) पोपट c) कोळी d) घोडा
 Which of the following living being have two legs?
 a) Crab b) Parrot c) Spider d) Horse
- 28) खालीलपैकी कोणत्या महिन्यात ३१ दिवस असतात?
 a) एप्रिल b) फेब्रुवारी c) मे d) जून
 Which of the following month has 31 days?
 a) April b) February c) May d) June
- 29) समोरासमोरील दिशांची जोडी कोणती?
 a) दक्षिण - उत्तर b) पूर्व - उत्तर
 c) पश्चिम - दक्षिण d) या पैकी नाही
 Which of following directions pair is face to face.
 a) South - North b) East – North
 c) West – South d) None of these
- 30) गाडीचे टायर्स कशापासून तयार होतात?
 a) कापड b) लोखंड c) रबर d) कापुस
 Motor tyres are made up of ?
 a) Cloth b) Iron c) Rubber d) Cotton
- 31) खालीलपैकी कोणते फळ आहे?
 a) टमाटे b) सफरचंद c) भोपळा d) कोबी
 Which of the following is fruit ?
 a) Tomato b) Apple c) Pumpkin d) Cabbage
- 32) खालीलपैकी कोणती कृती निरोगी आरोग्यास उपयुक्त नाही.
 a) योगासने b) यात्रेला जाणे
 c) सहलीला जाणे d) सतत टि.व्ही. पाहणे
 Which of these activities is not a healthy means of recreation?
 a) Practising yoga b) Going to fairs
 c) Going to Picnic d) Watching television for a long time
- 33) शरीराला आकार व आधार कशामुळे मिळतो ?
 a) सांधे b) सांगडा c) स्नायू d) त्वचा
 What gives support and shape to our body ?
 a) Joints b) Skeleton c) Muscles d) Skin
- 34) खालीलपैकी योग्य जोडी कोणती ?
 a) नाताळ - फटाके b) दिवाळी - बळीपूजन
 c) रमजान ईद - रंग d) दसरा - सांताक्लॉज
 Which of the following is a correct match
 a) Christmas – Crackers b) Diwali – Balipuja
 c) Ramzan - Id – Colour d) Dussehra – Santa Claus

- 35) खालीलपैकी शीख धर्माचे पहिले धर्मगुरु कोणते ?
 a) गुरु - नानक b) गुरु गोविंद सिंह
 c) गुरु तेगबहादूर d) गुरु अर्जुन देव
 Which among the following was the first Guru of the Sikhs?
 a) Guru Nanak b) Guru Gobind Singh
 c) Guru Tej Bahadur d) Guru Arjun Dev
- 36) प्रियाची शिवतेज सोबत सोयरिक झाली, तर शिवतेज प्रियाचा कोण आहे.
 a) पत्नी b) पती c) मानलेला पती d) वरीलपैकी सर्व
 Priya is engaged with Shivtej. Shivtej is of Priya.
 a) Spouse b) Husband c) fiance d) All of these
- 37) गटात न बसणारा पर्याय निवडा.
 a) परिचारिका b) डॉक्टर c) लेखापाल d) शल्यचिकीत्सक
 Select the odd one out
 a) Nurse b) Doctor c) Accountant d) Surgen
- 38) सूर्यमालेतील सर्वात लहान ग्रह कोणता ?
 a) बुध b) शुक्र c) पृथ्वी d) नेपच्यून
 Which is the Smallest Planet in our Solar System?
 a) Mercury b) Venus c) Earth d) Neptune
- 39) पवनचक्कीचे पाते कशामुळे फिरतात ?
 a) वारा b) पाणी c) बर्फ d) आग
 What makes the blades of a windmill rotate?
 a) Air b) Water c) Ice d) Fire
- 40) सूर्याबद्दल चुकीचे विधान कोणते ?
 a) सूर्य पहाटे पश्चिमेकडून उगवतो. b) सूर्यामुळे दिवस उबदार आणि तेजस्वी होतो.
 c) सूर्य हा तारा आहे. d) सूर्यामुळे प्रकाश व उष्णता मिळते.
 What is incorrect about the Sun?
 a) The Sun appears to rise from the west in the morning
 b) The sun makes the days warm and bright.
 c) The sun is a star.
 d) The sun gives light and heat.
- 41) खालीलपैकी योग्य विधान कोणते ?
 a) गहू आणि तांदूळ ह्या डाळी आहेत b) चना व वाटणा ह्या डाळी आहेत.
 c) वाटाणा आणि टमाटे ही कडधान्ये आहेत. d) आंब्यात भरपूर बिया असतात.
 Which of the following sentences is correct ?
 a) Wheat and rice are Pulses. b) Pea and gram are Pulses.
 c) Pea and tomato are cereals. d) Mango has many seeds.

42) खालीलपैकी कशामुळे बहिरेपणा येऊ शकतो ?



d) वरीलपैकी सर्व

Hearing disability may happen due to which of these ?



d) All of these

43) खालीलपैकी सामुहिक संदेश वहनाचे साधन कोणते ?

a) वर्तमानपत्र

b) आकाशवाणी

c) दूरदर्शन

d) वरीलपैकी सर्व

Which of these is a mean of mass communication?

a) News Paper

b) Radio

c) Television

d) All of these

44) दुध हे सकस अन्न आहे कारण त्यात असतात ?

a) प्रथिने

b) स्निग्ध पदार्थ

c) खजिने आणि जीवनसत्त्वे

d) वरीलपैकी सर्व

Milk is a complete food because it contains

a) Protins

b) Fat

c) Vitamins & Minerals

d) All of these

45) खालीलपैकी योग्य जोडी कोणती ?

a) आजोबांची पत्नी - काकू

b) काकाची बायको - आजी

c) आईचे वडील - काका

d) काकाचा मुलगा - चुलत भाऊ

Which of the following is a correct match?

a) Grandfather's wife – Aunt

b) Uncle's wife – Grandmother

c) Mother's father – Uncle

d) Uncle's Son – Cousin

46) आपल्या राज्याचे नाव काय आहे?

a) भारत

b) मुंबई

c) महाराष्ट्र

d) गुजरात

What is the name of our state?

a) India

b) Mumbai

c) Maharashtra

d) Gujrat

47) आपण कोणत्या दिवशी स्वातंत्र्य दिन साजरा करतो?

a) १४ नोव्हेंबर

b) १५ ऑगस्ट

c) २६ जानेवारी

d) १७ सप्टेंबर

When we Celebrate the Independence Day?

a) 14 November

b) 15 August

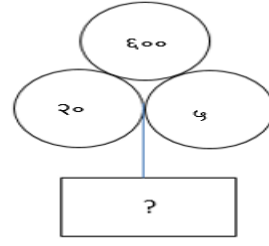
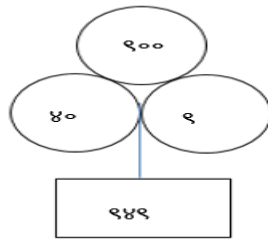
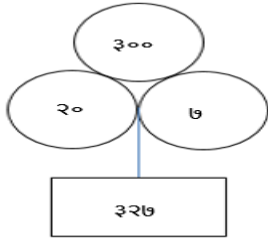
c) 26 January

d) 17 September

- 48) बँकेमुळे लोकांना सवय लागते?
 a) खर्च करण्याची b) बचतीची c) व्याजाची d) कर्जाची
 People have the habit of Due to bank.
 a) Spending b) Saving c) Interest d) Loan
- 49) गटात न बसणारे पद ओळखा.
 a) ८३ b) ७६ c) ६५ d) ३८
 Odd man out
 a) 83 b) 76 c) 65 d) 38
- 50) २५ + १७ + ३९ = ?
 a) ६१ b) ७१ c) ८३ d) ८१
 25 + 17 + 39 = ?
 a) 61 b) 71 c) 83 d) 81
- 51) २० रुपये + १० रुपये + ७ रुपये = किती रुपये ?
 a) ३५ रुपये b) ४५ रुपये c) ३७ रुपये d) ४० रुपये
 20 Rupees + 10 rupees + 7 rupees =rupees?
 a) 35 rupees b) 45 rupees c) 37 rupees d) 40 rupees
- 52) खालीलपैकी बरोबर दिनांक कोणता?
 a) ३१ जानेवारी b) ३१ एप्रिल c) ३१ जुन d) ३१ सप्टेंबर
 Which of the following is correct date?
 a) 31st January b) 31st April c) 31st June d) 31st September
- 53) जर उद्या गुरुवार असला, तर काल कोणता वार होता?
 a) गुरुवार b) मंगळवार c) रविवार d) शुक्रवार
 If tomorrow will be Thursday, then what day was yesterday?
 a) Thursday b) Tuesday c) Sunday d) Friday
- 53) ९५२ या संख्येत ५ कोणत्या स्थानी आहे.
 a) दशक b) शतक c) एकक d) पाच
 In 952, the digit 5 is in Place
 a) Ten's b) Hundred's c) One's d) Fives
- 54) एकशे एक x नऊ = किती ?
 a) नऊशे नव्वद b) एकशे नऊ c) नऊशे नव्याण्णव d) नऊशे नऊ
 One hundred and one x nine = ?
 a) Nine hundred and ninty b) One hundred and nine
 c) Nine hundred and ninty nine d) Nine hundred and nine
- 55) ५० ग्रॅम - २० ग्रॅम = किती ग्रॅम?
 a) ७० b) ३० c) २० d) ८०
 50 gm - 20 gm = gm?
 a) 70 b) 30 c) 20 d) 80

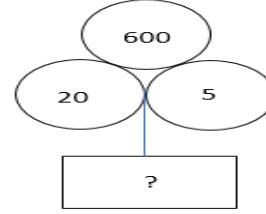
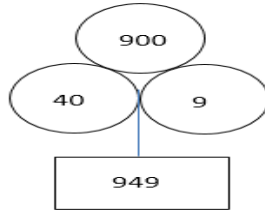
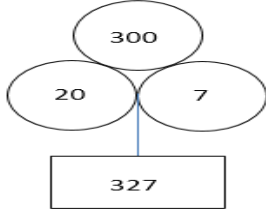
- 56) $48 + \square = 79$ रिकाम्या चौकटीतील योग्य संख्या पर्यायातून शोधा.
 a) 31 b) 29 c) 21 d) 39
- 57) एक तास = मिनिटे.
 a) 100 b) 60 c) 50 d) 15
- 58) एका पेनची किंमत 3 रु. , तर अशा 6 पेनाची किंमत किती?
 a) 9 b) 21 c) 18 d) 24
- 59) खालीलपैकी कोणती विषम संख्या असेल?
 a) $9 + 5$ b) $7 - 5$ c) 7×3 d) $6 + 8$
- 60) 2 दशक \square 50
 a) $<$ b) $>$ c) $=$ d) \wedge
- 61) खालील प्रश्नातील संख्या माला पूर्ण करा.
 15, 30, 45, 60, 75,
 a) 95 b) 92 c) 90 d) 98
- 62) सौरभकडे 450 फुगे होते, त्यापैकी 325 फुगे त्याने त्याच्या पार्टीत वापरले तर त्याच्याकडे किती फुगे शिल्लक राहिली?
 a) 775 b) 175 c) 125 d) 325
- 63) $2+2+2+2+2+2+2 = \dots\dots\dots ?$
 a) 14 b) 12 c) 18 d) 20

64) खालील संख्या - जोडीत प्रश्न चिन्हाच्या जागी कोणती संख्या येईल?



- a) 625 b) 652 c) 526 d) 256

Which of the following replaces ' ? ' in the given below number bonds?



- a) 625 b) 652 c) 526 d) 256

65) (२, ४, ६, ३, २, ४, ५, १, २, ३, ४, २) या संख्या मालिकेत ' २ ' हा अंक किती वेळा आलेला आहे?

- a) ६ b) ५ c) ३ d) ४

(2, 4, 6, 3, 2, 4, 5, 1, 2, 3, 4, 2) in this number pattern how many times '2' comes ?

- a) 6 b) 5 c) 3 d) 4

66) खालील प्रश्नात गटात न बसणारी संख्या ओळखा.

- a) १८ b) २१ c) २७ d) ३२

Odd man out.

- a) 18 b) 21 c) 27 d) 32

67) खालील प्रश्नात प्रश्नचिन्हाच्या जागी क्रमाने येणारी संख्या शोधा.

४०, ३२, २४, १६, ?

- a) १० b) ११ c) ८ d) ९

Select the option to complete the given number series.

40, 32, 24, 16, ?


- a) 10 b) 11 c) 8 d) 9

68) सोबतच्या आकृतीत चौरसाची संख्या किती?

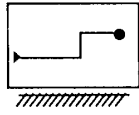
- a) ५ b) ४ c) ३ d) ९

Find the number of squares in the given figure

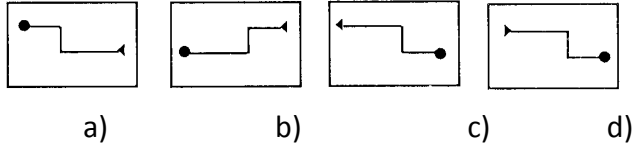
- a) 5 b) 4 c) 3 d) 9



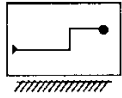
69) खालील प्रश्न आकृतीचे पाण्यातील प्रतिबिंब कसे दिसेल ते उत्तर आकृत्यामधून शोधा.
 प्रश्न आकृती



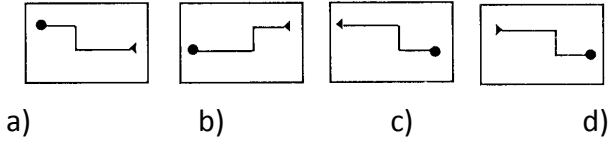
उत्तर आकृती



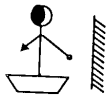
Find the water image for the question figure from the answer figure.
 Question Fig.



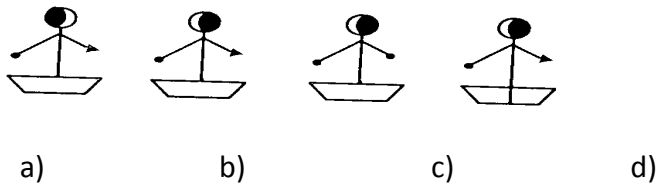
Answer Fig.



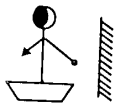
70) खालील प्रश्न आकृतीची आरशातील प्रतिमा कशी दिसेल ते उत्तर आकृत्यामधून ओळखा.
 प्रश्न आकृती



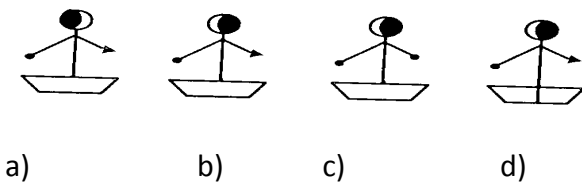
उत्तर आकृती



Find the mirror image for the question figure from the answer figure.
 Question Fig.



Answer Fig.

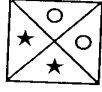


71) खालील प्रश्नात प्रश्न आकृतीशी तंतोतंत जुळणारी आकृती पर्यायातून निवडा.

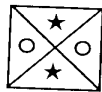
प्रश्न आकृती



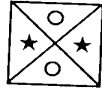
उत्तर आकृती



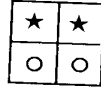
a)



b)



c)




d)

Out of the given group of figures find out an exact similar figure to the given question figure.

Question Fig.



Answer Fig.



a)



b)



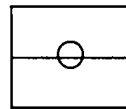
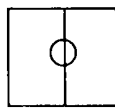
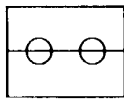
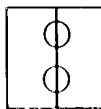
c)



d)

72) खालील प्रश्नात प्रश्न चिन्हाच्या जागी येणारी आकृती शोधा.

प्रश्न आकृती



?

उत्तर आकृती



a)



b)



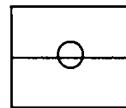
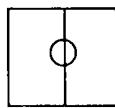
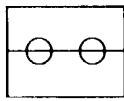
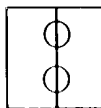
c)



d)

Find out suitable figure at place of question mark.

Question Fig.



?

Answer Fig.



a)



b)

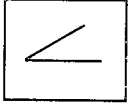


c)



d)

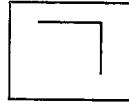
73) खालील प्रश्न गटात न बसणारी आकृती शोधा.



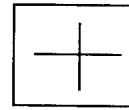
a)



b)

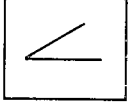


c)



d)

Find odd figure out.



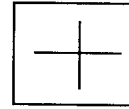
a)



b)



c)



d)

74) जमिनीवर कोण राहत नाही?

a) माणूस

b) हवा

c) झाडे

d) प्राणी

Who does not live on land.

a) Man

b) Air

c) Plant

d) Animal

75) पावसाळा : रेनकोट :: हिवाळा : ?

a) थंडी

b) छत्री

c) स्वेटर

d) ताप

Monsoon : Raincoat :: Winter : ?

a) Cold

b) Umbrella

c) Sweater

d) Temperature

76) गटात न बसणारे पद ओळखा.

a) सकाळ

b) संध्याकाळ

c) दुपार

d) दिवस

Find the odd man out:

a) Morning

b) Evening

c) Afternoon

d) Day

77) शितल पेक्षा सुप्रिया मोठी आहे. पण केतकी सुप्रिया पेक्षा लहान आहे, तर सर्वात मोठे कोण?

a) शितल

b) सुप्रिया

c) केतकी

d) शितल व केतकी

Supriya is taller than Shital but ketaki is shorter than supriya then who is the tallest?

a) Shital

b) Supriya

c) ketaki

d) Shital & Ketaki

78) बिल गेट्स हे खालीलपैकी कोणत्या कंपनीचे मालक आहेत?

a) मायक्रोसॉफ्ट

b) सायबर

c) विंडोज

d) ब्लॅकबेरी

Which of the following companys owner is Bill Gates?

a) Microsoft

b) Cyber

c) Windows

d) Blackberry

79) एका वर्षी नाताळ रविवारी येत असल्यास , महाराष्ट्र दिन कोणत्या वारी येईल?

a) रविवार

b) सोमवार

c) शनिवार

d) मंगळवार

One year, The Christmas day was on Sunday on what day will Maharashtra day fall?

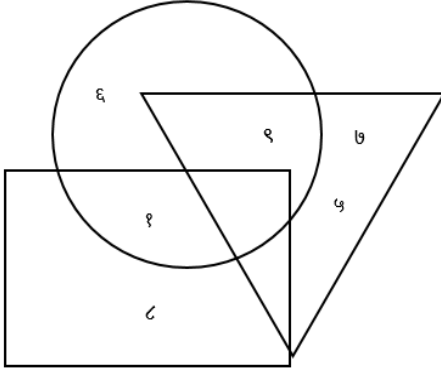
a) Sunday

b) Monday

c) Saturday

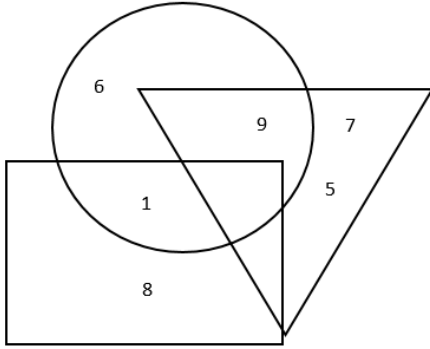
d) Tuesday

80) खालील आकृतीत फक्त त्रिकोणात असणाऱ्या अंकाची बेरीज किती?



- a) १९ b) २१ c) १२ d) १७

What is the sum of numbers only inside the triangle in the given figure?



- a) 19 b) 21 c) 12 d) 17

81) एका सांकेतिक भाषेत खालीलप्रमाणे संख्या लिहितात.

७ = ५६, ५ = ३०, ३ = १२ तर ४ ही संख्या कशी लिहाल?

- a) १६ b) २४ c) १८ d) २०

In a coded language, 7 = 56, 5 = 30, 3 = 12

How will you write 4 = ?

- a) 16 b) 24 c) 18 d) 20

82) एक तारखेला रविवार होता. तर पुढील रविवार किती तारखेला येईल?

- a) ८ b) ७ c) १४ d) ६

If one falls on Sunday, what is the date on next Sunday?

- a) 8 b) 7 c) 14 d) 6

83) २ ५ ३ ६ ३ ५ ३ १ ५ ३ ५ २ ६ ३ ५ ३ ६

वरील अंक मालेत सर्वात कमी वेळा आलेला अंक कोणता?


- a) ६ b) २ c) ४ d) १

Which of appears minimum times in given number series.

2 5 3 6 3 5 3 1 5 3 5 2 6 3 5 3 6

- a) 6 b) 2 c) 4 d) 1

- 84) सुरांची ओळख होण्यासाठी कोणत्या ज्ञानेंद्रियांचा वापर होतो?
 a) जीभ b) डोळा c) नाक d) कान
 By which sense organ you come to know tune?
 a) Tongh b) Eyes c) Nose d) Ear
- 85) महाराष्ट्राचे मुख्यमंत्री कोण आहेत?
 a) अजित पवार b) अशोक चव्हाण
 c) पृथ्वीराज चव्हाण d) देवेंद्र फडणवीस
 Who is the chief minister of Maharashtra?
 a) Ajit Pawar b) Ashok Chavan
 c) Pruthviraj Chavan d) Devendra Fadanvis
- 86) महाराष्ट्र राज्याची राजधानी कोणती?
 a) मुंबई b) पुणे c) नागपूर d) औरंगाबाद
 Which is the capital of Maharashtra?
 a) Mumbai b) Pune c) Nagpur d) Aurangabad
- 87) भारताचे पंतप्रधान कोण आहेत?
 a) मनमोहन सिंह b) शरद पवार c) सोनिया गांधी d) नरेंद्र मोदी
 Who is the prime minister of india?
 a) Manmohan Singh b) Sharad Pawar
 c) Soniya Gandhi d) Narendra Modi
- 88) खालीलपैकी जिल्ह्याचा प्रमुख कोण?
 a) जिल्हाधिकारी b) मुख्य कार्यकारी अधिकारी
 c) जिल्हा पोलीस अधिक्षक d) जिल्हा परिषद
 Which of the following is head of district?
 a) Collector b) Chief Executive Officer
 c) District Superintendent of Police d) Zilla Parishad
- 89) अभिनव बिंद्रा हा खेळाडू कोणत्या खेळाशी संबंधित आहे?
 a) नेमबाजी b) कबड्डी c) बॉक्सिंग d) क्रिकेट
 With which games Abhinava Bindra belongs?
 a) Shooting b) Kabaddi c) Boxing d) Cricket
- 90) खालीलपैकी शेतीच्या उपयोगी वाहन कोणते?
 Which of the following is a agricultural utility vehicles?



- 91) शिवाजी महाराजांच्या आईचे नाव काय होते?
 a) सईबाई b) जिजाबाई c) येसूबाई d) यापैकी नाही
 What was the name of Shivaji Maharaj's Mother ?
 a) Saibai b) Jijabai c) Yesubai d) None of these
- 92) खालीलपैकी महात्मा कोणाला म्हणतात?
 a) पंडित नेहरू b) संत गाडगे बाबा c) ज्योतीराव फुले d) डॉ. बाबासाहेब आंबेडकर
 Who is called "Mahatma" from the following?
 a) Pandit Nehru b) Sant Gadge Baba c) Jyotirao fule d) Dr. Babasaheb Ambedkar
- 93) भारताचे राष्ट्रीय फूल कोणते?
 a) गुलाब b) कमळ c) मोर d) मोगरा
 Which is the national flower of India?
 a) Rose b) Lotus c) Peacock d) Mogra
- 94) आपल्या राष्ट्रध्वजात एकूण किती रंग आहेत?
 a) चार b) दोन c) पाच d) तीन
 How many colors are in our national flag?
 a) Four b) Two c) Five d) Three
- 95) ' धवलक्रांती ' कशाशी संबंधित आहे?
 a) दूध उत्पादनात वाढ b) रेशीम उत्पादनात वाढ
 c) अन्नधान्य उत्पादनात वाढ d) नारळाच्या उत्पादनात वाढ
 "White revolution" is related with
 a) Increase in milk production b) Increase in Silk production
 c) Increase in Food production d) Increase in Coconut production
- 96) दौलताबादचा किल्ला कोणत्या जिल्ह्यात आहे?
 a) औरंगाबाद b) जालना c) पुणे d) रायगड
 "Daultabad Fort" is located in which District?
 a) Aurangabad b) Jalna c) Pune d) Raigad
- 97) खालीलपैकी कोणाला २०१४ चे नोबेल परितोषिक मिळाले आहे?
 a) मलाला युसुफझाई b) अण्णा हजारे
 c) नरेंद्र मोदी d) मनोहरलाल खट्टर
 Which of the following won the Nobel Prize 2014?
 a) Malala Yousafzai b) Anna Hazare
 c) Narendra Modi d) Manoharlal Khattar
- 98) शिवाजी महाराजांचा जन्म कोणत्या किल्ल्यावर झाला?
 a) कोंढाणा b) शिवनेरी c) प्रतापगड d) रायगड
 On Which fort Shivaji Maharaj was born?
 a) Kandhana b) Shivneri c) Pratapgadh d) Raigad

- 99) आर.टी.एस ही परीक्षा कोणत्या वर्गासाठी घेतली जाते?
a) पहिली ते दहावी b) दुसरी ते दहावी c) पाचवी ते नववी d) दुसरी ते नववी
R.T.S. Exam is conducted for which class?
a) 1st To 10th b) 2nd To 10th c) 5th To 9th d) 2nd To 9th
- 100) उंच जाणाऱ्या फुग्यात कोणता वायू असतो.
a) कार्बनडाय ऑक्साईड b) हायड्रोजन
c) ऑक्सिजन d) पाण्याची वाफ
Which gas is present in the ballon which goes high?
a) Carbon Dioxide b) Hydrogen
c) Oxygen d) Steam Of Water